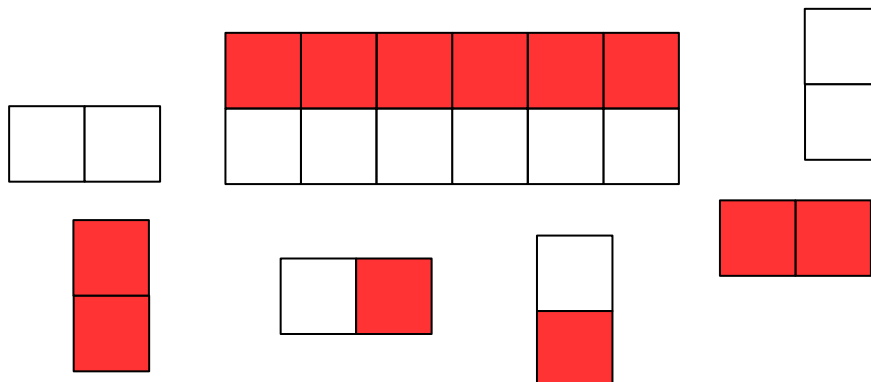


# GEOMETRIE

1.

Jak položíš parkety? Vystříhni tvary a poskládej je do pole.



2.

Znáš názvy geometrických tvarů? U každého tvaru vybarvi správnou odpověď a písmeno napiš dolů do tabulky.



střecha



trojúhelník



čtverec



obdélník



čtverec



trojúhelník



trojúhelník



kostka



čtverec



kulička



kruh



míč

--	--	--	--

3.

Rozluštiš tuto šifru? Jedná se o velikosti a geometrické tvary. Dokresli do tabulky podle instrukcí.

--	--	--	--	--	--	--	--

vt

mč

mk

vo

vč

mo

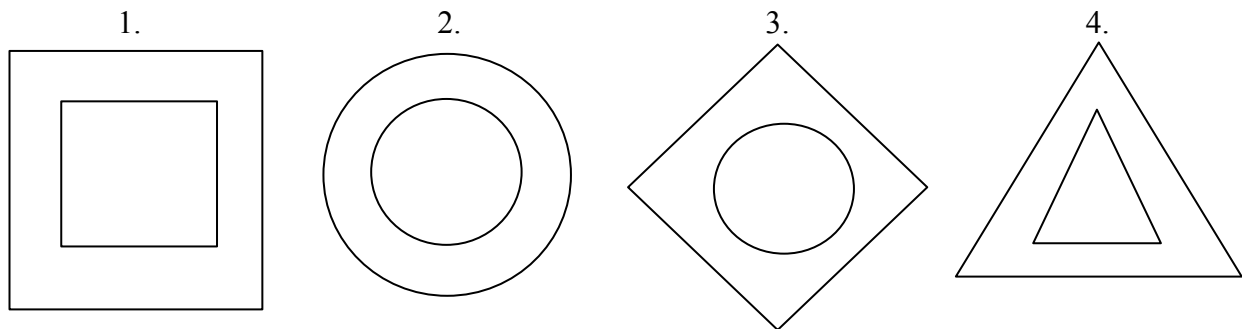
vk

mt

4.

Jeden ze čtyř obrázků porušuje zásady, podle kterých jsou sestaveny zbývající tři.

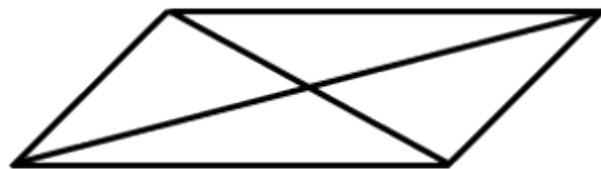
Který je to obrázek?



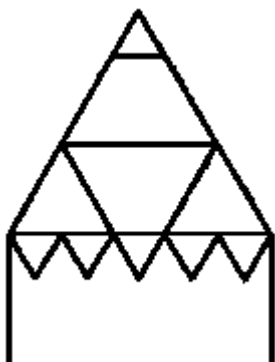
Odpověď: \_\_\_\_\_

5.

Kolik objevíš na obrázku trojúhelníků?



Dokážeš spočítat, kolik je na tomto obrázku trojúhelníků?



Odpověď: \_\_\_\_\_

7.

Pavel si narýsoval a vystříhl sítě různých těles a poté si je slepil. Pojmenuješ správně tělesa, která mu vznikla?

A – \_\_\_\_\_

B – \_\_\_\_\_

C – \_\_\_\_\_

D – \_\_\_\_\_

